

- 9.（2分）2019年是新中国海军成立70周年。中国人民解放军第一支海军部队是（ ）
- A. 东海舰队 B. 南海舰队
C. 北海舰队 D. 华东军区海军
- 10.（2分）在2012年，中国第一位获得诺贝尔文学奖的作家是（ ）
- A. 莫言 B. 屠呦呦 C. 袁隆平 D. 钱学森
- 11.（2分）在中国人民政治协商会议第一届全体会议开幕式上，毛泽东说：“占人类总数四分之一的中国人从此站立起来了。”这是指中国（ ）
- A. 真正成为独立自主的国家
B. 改变了工业落后的面貌
C. 正式建立了社会主义制度
D. 解除了西方国家的封锁
- 12.（2分）“抗美援朝战争的伟大胜利，是中国人民站立起来后屹立于世界东方的宣言书，是中华民族走向伟大复兴的重要里程碑，对中国和世界都有着重大而深远的意义。”这段表述强调了抗美援朝（ ）
- A. 结束了朝鲜半岛的对峙
B. 提高了中国的国际地位
C. 改变了中国的社会性质
D. 推动了中美关系的改善
- 13.（2分）下表是1950年至1952年我国主要农产品产量变化表。这些变化是由于（ ）

类别	粮食	棉花	油料
1951年比1950年增长（%）	8.7	48.8	22.4
1952年比1951年增长（%）	14.1	26.5	12.5

- A. 土地改革运动的进行
B. 农业的社会主义改造
C. 农业生产合作社的建立
D. 实行了过渡时期总路线
- 14.（2分）如图为1954年金肇芳创作的年画《光荣的生产模范》，该作品反映了（ ）




- A. 社会主义民主政治建设的成果
- B. 社会主义制度调动了人民的生产积极性
- C. “双百”方针得到充分落实执行
- D. “一五计划”时期崇尚劳动的时代风貌

15. (2分) 1953年1月15日,《人民日报》发表了《迎接普选,实行人民代表大会制度》的社论。社论号召全国人民:“积极行动起来认真地准备这次普遍的民主选举运动。”这次活动()

- A. 推进了民主政治进程
- B. 扭转了朝鲜战场的形势
- C. 加速了农业合作化运动
- D. 促进了“一五”计划的实施

16. (2分) 为如图拟定标题,最恰当的是()



- A. 人民政权的巩固
- B. 土地改革的进程
- C. 一五计划的实现
- D. 三大改造的完成

17. (2分) 1956年,中国共产党的某次重要会议指出:“党和人民的主要任务是集中力量把我国尽快地从落后的农业国变为先进的工业国。”这次会议是()

- A. 中共七大
- B. 中共七届二中全会
- C. 中共八大
- D. 中共八大二次会议

18. (2分) 如图是1978年12月邓小平在中共中央工作会议闭幕会上的讲话提纲。这一讲话()

一是解放思想，开动机器

二是发扬民主，加强法制

三是向后看为的是向前看

四是克服官僚主义，人浮于事

A. 推动伟大历史转折的到来

B. 标志计划经济体制的结束

C. 体现南方谈话的主要内容

D. 提出社会主义初级阶段理论

19.（2分）十一届三中全会后，广大农村地区流行一句谚语：“大包干、大包干，交够国家的，留足集体的，剩下都是自己的”。这说明家庭联产承包责任制（ ）

A. 改变农村土地所有权

B. 提高农民生产积极性

C. 促进农村规模化经营

D. 实现农业集体化生产

20.（2分）下面两幅漫画反映了20世纪60年代和21世纪初人们日常生活发生的变化。据此分析，该变化是由于我国（ ）



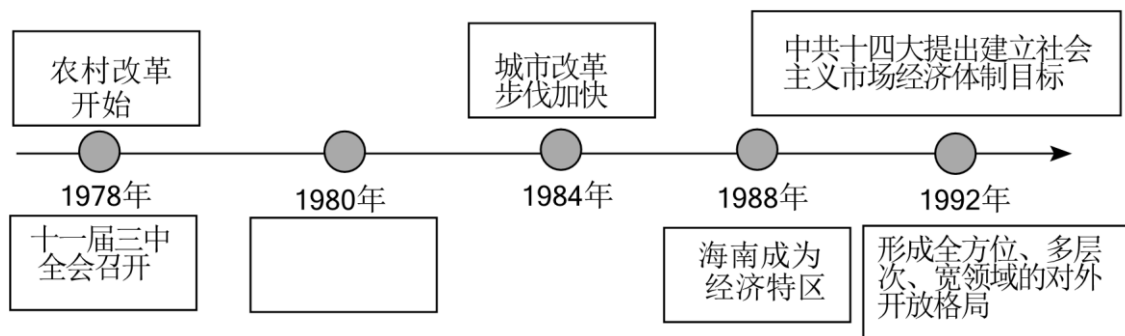
A. 改革开放的不断深入

B. 第一个五年计划的实施

C. “大跃进”持续推进

D. 人民公社化运动的开展

21.（2分）下列年代尺的方框中应填写（ ）



- A. 开放十四个沿海城市 B. 建立沿海经济开放区
C. 设立深圳等经济特区 D. 开发开放上海浦东

22. (2分) 把习近平新时代中国特色社会主义思想确立为中国共产党必须长期坚持的指导思想的是 ()

- A. 中共十六大 B. 中共十七大
C. 中共十八大 D. 中共十九大

23. (2分) 2023年2月1日, 山东省纪委监委组织省机关党员干部到省廉政教育馆接受纪律教育。这体现了“四个全面”战略布局中的 ()

- A. 全面建成小康社会 B. 全面从严治党
C. 全面依法治国 D. 全面深化改革

24. (2分) 历史学习要学会区分史实和史论, 史论就是根据史实得出的历史结论。下列属于史论的是 ()

- A. 民族区域自治制度对维护民族团结具有重大意义
B. 周恩来在万隆会议上提出了“求同存异”的方针
C. 袁隆平经多年反复试验成功培育出籼型杂交水稻
D. 中国于2001年12月成为了世界贸易组织的成员

25. (2分) 2022年5月8日, 香港特别行政区成功进行第六任行政长官选举。香港社会各界表示, 新任行政长官必将更好地贯彻落实“爱国者治港”原则。“爱国者治港”践行了 ()

- A. 和平共处五项原则 B. “一国两制”方针
C. 民族区域自治制度 D. “求同存异”方针

26. (2分) 1992年, “海协会”和“海基会”达成“九二共识”, “九二共识”的核心内容是海峡两岸均坚持 ()

- A. 一个中国原则 B. 和平共处五项原则
C. 独立自主原则 D. 互利互补原则

27. (2分) 和平共处五项原则已逐步为世界大多数国家所接受, 不仅在各国大量的双边条约中得到体现, 而且被许多国家条约和国际文献所确认。这是因为和平共处五项原则 ()

- A. 加强社会主义阵营力量
- B. 消除世界各国间的矛盾冲突
- C. 维护发展中国家的利益
- D. 符合和平与发展的时代主题

28.（2分）新中国70年代外交关系的三次突破：艰难复常，扬眉吐气；跨洋握手，冰释前嫌；相逢一笑，邻里往来。其中第一次突破带来的影响是（ ）

- A. 实现了中国入世的愿望
- B. 加速了改革开放的进程
- C. 提高了中国的国际地位
- D. 建立了人类命运共同体

29.（2分）1964年10月16日，在我国西部戈壁，伴随着一声霹雳巨响，巨大的蘑菇云腾空而起，向世人昭示了我国（ ）

- A. 载人航天技术的进步
- B. 国防实力的增强
- C. 卫生医疗事业的发展
- D. 粮食问题的解决

30.（2分）为了掌握时间，不同时代的人们选择不同的方式。“五十年代看阳光，七十年代看墙上（钟表），八十年代看手上（手表），九十年代看腰上（手机）”。这反映出（ ）

- A. 通讯手段的进步
- B. 时间观念的增强
- C. 生活方式的变化
- D. 民众素质的提高

二、非选择题（本部分3小题，共40分。第31题13分，第32题13分，第33题14分）

31.（13分）新中国的工业化建设

材料一：



材料二：将重工业作为经济建设的重点，一方面是学习苏联的结果，另一方面，以重工业为重点又是从中国的实际出发。同时，中国共产党吸取了苏联在发展重工业时忽视农业和轻工业的教训，在确定优先

发展重工业作为社会主义工业化的中心环节的同时，规定了要使工业和农业、重工业和轻工业的发展之间保持一个适当的比例，从而使国民经济能够有计划、按比例地协调发展。

——摘编自赵凌云等《为了人民的利益（中国共产党经济工作 100 年）》

请回答：

（1）据材料一，将照片所反映的历史事件写在横线上。从中任选一历史事件，仿照示例，说明其与中国工业化的关系。

【示例】图④：第一届全国人大的召开，通过了《中华人民共和国宪法》，确立了人民代表大会制度，这为新中国的工业化提供了制度和法律的保障。

（2）据材料二，概括新中国工业化建设的特点。结合所学知识，说明它如何体现我党“一切从实际出发”的思想。

32.（13 分）国有企业改革

徐州绿健乳业公司发展大事年表	
1956 年	在泰康牛乳场（1934 年创立）的基础上成立地方国营徐州市乳牛场，正式形成规模业体制。
1980 年	成立徐州市乳品公司，隶属徐州市农水局，主要产品为消毒牛奶、奶粉、麦乳精等
1995 年	由于管理落后，设备陈旧，年亏损 328 万元。年底，从市场、产品、管理到用干部用工及收入分配进行大胆改革。
1996 年	公司实施“固体向液体转移”产品战略，主要生产销售液体奶，当年担亏 204 万元
1997 年	企业一举扭亏为盈，驶入企业有利润、职工收入增长、效益逐年上升的良性发展轨道
2000 年	作为徐州市第一批改制国有企业，改制为徐州绿健乳业有限责任公司，成为独立经营、自负盈亏的法人实体。
2003 年	开创“公司+政府+奶农”的奶源基地建设模

	式，以“订单农业”、股份制、合作形式，向基地、奶农提供各种帮助。
2005 年	绿健乳业发展成为牧工商、经贸一体化、产加销一条龙的省、市重点龙头企业。

——摘编自《徐州市市志》

请回答：

- （1）据材料并结合所学知识，将徐州绿健乳业公司的发展历程划分为三个阶段，并说明划分理由。
- （2）据材料并结合所学知识，说明国家的经济政策是怎样影响绿健乳业公司发展的？

33.（14 分）新中国外交

材料一 20 世纪 50 年代恢复中华人民共和国在联合国的席位问题一直受到美国的阻挠。随着新中国外交的开展和联合国会员国的增加，赞成恢复中华人民共和国合法席位的票数逐年增加。1971 年第二十六届联大以 76 票赞成，35 票反对，17 票弃权的压倒性多数通过“2758”号决议，恢复了中华人民共和国在联合国的一切权利，驱逐台湾代表出联合国。新中国 22 年的斗争取得了最后的胜利。

——摘编自金朝晖《周恩来与中国在联合国合法席位的恢复》

材料二 新中国成立二十多年来，中国的国际地位不断提高，在国际事务中的作用重大。美国总统尼克松在一份对外报告中说：“如果没有（中国）这个拥有七亿多人民的国家出力量，要建立稳定和持久的国际秩序是不可设想的。”美国孤立中国政策的失败，以及美国与苏联争霸的需要，都使美国不得不考虑改善与中国的关系。中国也面临新的战略抉择。那时候，苏联陈兵中国北方边境，构成对中国安全的主要威胁。在这种形势下，改善中美关系，对改善中国的国际地位，对付来自苏联的威胁十分有利；同时，对解决台湾问题，实现祖国统一大业，也有重要作用。

——人民教育出版社《历史必修 1》

请回答：

- （1）据材料一并结合所学知识，说明中华人民共和国在联合国的合法席位得以恢复的原因。
- （2）据材料二，归纳中美关系得以改善的原因。
- （3）综合以上材料，指出影响国与国之间外交关系的因素。

2022-2023 学年江苏省徐州市八年级（下）期末历史试卷

参考答案与试题解析

一、单项选择题（本部分共 30 小题，每小题 2 分，共 60 分）

1. (2分) 第一届中国人民政治协商会议召开的时间是 ()

- A. 1946 年 1 月
B. 1949 年 9 月
C. 1950 年 5 月
D. 1979 年 12 月

【答案】B

【分析】 本题考查了中国人民政治协商会议。注意掌握相关的基础知识。

【解答】根据所学知识，第一届中国人民政治协商会议是为了新中国的成立做准备的，召开于 1949 年的 9 月，通过了《政治纲领》，B 是正确的选项；1949 年 9 月，第一届中国人民政治协商会议在北平召开，ACD 不符合题意。

故选：B。

2. (2分) 抗美援朝战争中，奋不顾身堵枪眼的战斗英雄是 ()

- A. 邱少云 B. 罗盛教 C. 黄继光 D. 杨根思

【答案】C

【分析】 本题考查抗美援朝，掌握相关的基础知识。

【解答】在上甘岭战役中的一次战斗中，黄继光用身躯堵住敌人的机枪射口，掩护战友夺回阵地，自己壮烈牺牲，故 C 正确；邱少云在大火中严守潜伏纪律，直至壮烈牺牲，排除 A；罗盛教在抗美援朝战争中牺牲生命救朝鲜落水儿童，排除 B；杨根思在朝鲜咸镜南道长津郡下碣隅里南小高岭战斗中，与群敌同归于尽，用生命保住了小高岭阵地，为夺取第二次战役胜利立下卓越功勋，排除 D。

故选：C。

3. (2分) 我国的根本政治制度是 ()

- A. 多党合作和政治协商制度
- B. 人民代表大会制度
- C. 民族区域自治制度
- D. 社会主义制度

【答案】B

【分析】 本题考查的是新中国的政治制度，侧重于考查的是根本政治制度。

【解答】依据课本内容，人民代表大会制度是我国的根本政治制度，也是我们党在国家政权组织中贯彻群众路线、充分发扬民主的最好实现形式，具有强大的生命力和无比的优越性。

故选：B。

4.（2分）建国之后土地改革的纲领性文件是（ ）

- A.《中国土地法大纲》
- B.《中华人民共和国土地管理法》
- C.《中华人民共和国土地改革法》
- D.《中华人民共和国农村土地承包法》

【答案】C

【分析】本题考查《中华人民共和国土地改革法》的相关内容，掌握基础知识。

【解答】A.《中国土地法大纲》是抗日战争胜利后，中国共产党公开颁布的第一个关于土地制度改革的纲领性文件，排除A。

B.《中华人民共和国土地管理法》是土地管理方面的法律，排除B。

C.根据所学可知，1950年中央人民政府颁布了《中华人民共和国土地改革法》，开始在农村进行土地改革，到1956年底，除部分少数民族地区以外，全国大陆基本完成土地改革，土地改革的完成彻底摧毁了我国存在了两千多年的封建土地制度，建国之后土地改革的纲领性文件，故C正确。

D.《中华人民共和国农村土地承包法》是农村土地承包方面的法律，排除D。

故选：C。

5.（2分）“文化大革命”结束的标志是（ ）

- A. 开始平反冤假错案
- B. “九一三事件”
- C. 中央文革小组成立
- D. “四人帮”覆灭

【答案】D

【分析】本题主要考查文化大革命的知识点。“文化大革命”结束的标志是江青反革命集团被粉碎。

【解答】结合所学知识可知，1976年10月，中共中央一举粉碎了江青反革命集团（四人帮），标志着文化大革命结束。D符合题意，ABC与题意不符，排除。

故选：D。

6.（2分）下列人物中有着铁人称号的是（ ）

- A. 王进喜
- B. 邓稼先
- C. 焦裕禄
- D. 雷锋

【答案】A

【分析】本题考查了王进喜。大庆油田的建成结束了中国靠“洋油”的时代，实现原油和石油新产品全

部自给。

【解答】有着铁人称号的是王进喜，他在大庆石油会战中，组织全队职工用“人拉肩扛”的方法搬运和安装钻机，用“盆端桶提”的办法运水保开钻，打出了大庆油田的第一口油井。他常说：“宁肯少活 20 年，拼命也要拿下大油田。”曾不顾腿伤跳进泥浆池，用身体搅拌泥浆压井喷，成为我国石油工人艰苦创业的一面旗帜，被群众誉为“铁人”。

故选：A。

7.（2 分）城市经济体制改革的中心环节是（ ）

- A. 实行新的工资改革
- B. 建立多种形式的所有制结构
- C. 建立市场经济体制
- D. 增强企业活力

【答案】D

【分析】本题考查城市经济体制改革的有关内容。城市经济体制改革的中心环节是增强企业活力。

【解答】根据所学知识可知，1984 年 10 月，中共十二届三中全会通过了《中共中央关于经济体制改革的决定》，要求加快以城市为重点的经济体制改革的步伐。城市经济体制改革的中心环节是增加企业活力。选项 D 符合题意；ABC 与题意不符。

故选：D。

8.（2 分）1997 年，回归祖国怀抱的是（ ）

- A. 香港
- B. 澳门
- C. 台湾
- D. 西藏

【答案】A

【分析】本题考查港澳回归，识记港澳回归相关知识。

【解答】A.根据所学知识，1997 年 7 月 1 日，中国对香港恢复行使主权，在香港设立特别行政区，A 项正确。

B.1999 年，澳门回归，排除 B 项。

C.台湾尚未回归，排除 C 项。

D.西藏在 1951 年和平解放，排除 D 项。

故选：A。

9.（2 分）2019 年是新中国海军成立 70 周年。中国人民解放军第一支海军部队是（ ）

- A. 东海舰队
- B. 南海舰队
- C. 北海舰队
- D. 华东军区海军

【答案】见试题解答内容

【分析】本题以 2019 年是新中国海军成立 70 周年为依托，考查中国人民解放军第一支海军部队。

【解答】人民陆军建立于 1927 年 8 月 1 日，新中国成立前夕（1949 年 4 月），中国人民解放军第一支海军——华东军区海军建立。新中国成立后，又相继建立了北海、东海和南海舰队。D 符合题意。

故选：D。

10.（2 分）在 2012 年，中国第一位获得诺贝尔文学奖的作家是（ ）

A. 莫言 B. 屠呦呦 C. 袁隆平 D. 钱学森

【答案】见试题解答内容

【分析】本题考查了莫言。他是 2012 年诺贝尔文学奖获得者。

【解答】2012 年，中国作家莫言获得诺贝尔文学奖，中国文化的国际影响越来越大。北京时间 2012 年 10 月 11 日 19 时，瑞典诺贝尔委员会宣布 2012 年诺贝尔文学奖获得者为莫言。

故选：A。

11.（2 分）在中国人民政治协商会议第一届全体会议开幕式上，毛泽东说：“占人类总数四分之一的中国人从此站立起来了。”这是指中国（ ）

A. 真正成为独立自主的国家
B. 改变了工业落后的面貌
C. 正式建立了社会主义制度
D. 解除了西方国家的封锁

【答案】A

【分析】本题考查新中国成立，掌握相关的基础知识。

【解答】根据题干并结合所学知识可知，1949 年 10 月 1 日，开国大典在北京隆重举行，标志着中华人民共和国的成立。中华人民共和国的成立，开辟了中国历史的新纪元。中国人民经过一百多年的英勇斗争，终于推翻了帝国主义、封建主义和官僚资本主义的统治。中国真正成为独立自主的国家，占人类总数四分之一的中国人民从此站起来了。故 A 正确；一五计划的超额完成开始改变我国工业落后的面貌，排除 B；三大改造的完成我国开始建立了社会主义制度，排除 C；新中国成立没有解除了西方国家的封锁，排除 D。

故选：A。

12.（2 分）“抗美援朝战争的伟大胜利，是中国人民站立起来后屹立于世界东方的宣言书，是中华民族走向伟大复兴的重要里程碑，对中国和世界都有着重大而深远的意义。”这段表述强调了抗美援朝（ ）

A. 结束了朝鲜半岛的对峙

- B. 提高了中国的国际地位
- C. 改变了中国的社会性质
- D. 推动了中美关系的改善

【答案】B

【分析】本题考查了抗美援朝，注意掌握相关的基础知识。

【解答】阅读材料可知，材料从国内和国际两个方面阐述了抗美援朝战争胜利的影响。伟大的抗美援朝战争，抵御了帝国主义侵略扩张，捍卫了新中国安全，保卫了中国人民和平生活；稳定了朝鲜半岛局势，维护了亚洲和世界和平，大大提高了中国的国际地位。抗美援朝战争伟大胜利，是中国人民站起来后屹立于世界东方的宣言书，是中华民族走向伟大复兴的重要里程碑。材料强调了抗美援朝大大提高了中国的国际地位，B 是正确的选项；抗美援朝的胜利，没有结束朝鲜半岛的对峙状态，排除 A；1956 年，三大改造的完成，使我国从新民主主义社会跨入了社会主义社会，排除 C；通过乒乓外交，中国和美国之间的关系得到了改善，排除 D。

故选：B。

- 13.（2 分）下表是 1950 年至 1952 年我国主要农产品产量变化表。这些变化是由于（ ）

类别	粮食	棉花	油料
1951 年比 1950 年增长（%）	8.7	48.8	22.4
1952 年比 1951 年增长（%）	14.1	26.5	12.5

- A. 土地改革运动的进行
- B. 农业的社会主义改造
- C. 农业生产合作社的建立
- D. 实行了过渡时期总路线

【答案】见试题解答内容

【分析】本题考查土地改革运动。土地改革重大历史意义是彻底摧毁了我国存在两千多年的封建土地制度，地主阶级也被消灭；农民翻了身，得到了土地，成为土地的主人。这使人民政权更加巩固，也大大解放了农村生产力，农业生产获得迅速恢复和发展，为国家的工业化建设准备了条件。

【解答】从建国初期我国主要农产品产量表可以看出，1950 到 1952 年粮食、棉花产量逐年大幅度提升，结合所学，1950 年，中央政府颁布《中华人民共和国土地改革法》，在全国进行土地改革，到 1952 年底，三亿无地或少地农民分得了土地。所以表格内容说明土地改革运动解放了农村生产力。

故选：A。

14.（2分）如图为1954年金肇芳创作的年画《光荣的生产模范》，该作品反映了（ ）



- A. 社会主义民主政治建设的成果
- B. 社会主义制度调动了人民的生产积极性
- C. “双百”方针得到充分落实执行
- D. “一五计划”时期崇尚劳动的时代风貌

【答案】D

【分析】本题考查了一五计划。注意掌握相关的基础知识。

【解答】根据所学可知，生产模范是指在工作 and 生产中表现出色的人。结合材料时间1954年和“光荣的生产模范”可知，材料反映出“一五”计划时期崇尚劳动的时代风貌，D是正确的选项；1954年《中华人民共和国宪法》的颁布是我国民主政治建设的重大成果，与题干材料“生产模范”不符，排除A；当时（1954年），我国尚未确立社会主义制度，排除B；当时（1954年），我国没有尚提出“双百方针”，排除C。

故选：D。

15.（2分）1953年1月15日，人民日报》发表了《迎接普选，实行人民代表大会制度》的社论。社论号召全国人民：“积极行动起来认真地准备这次普遍的民主选举运动。”这次活动（ ）

- A. 推进了民主政治进程
- B. 扭转了朝鲜战场的形势
- C. 加速了农业合作化运动
- D. 促进了“一五”计划的实施

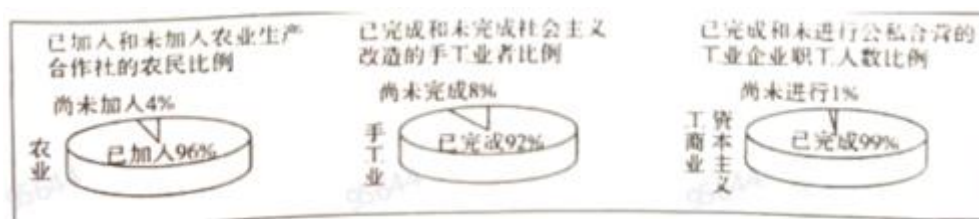
【答案】见试题解答内容

【分析】本题主要考查《中华人民共和国宪法》。第一届全国人民代表大会第一次会议通过了中华人民共和国宪法。

【解答】由题干材料可知，这次活动推动了民主政治进程。根据所学知识可知，1954 年，在第一届全国人民代表大会上制定了第一部宪法《中华人民共和国宪法》，这是我国第一部社会主义类型的宪法。

故选：A。

16.（2 分）为如图拟定标题，最恰当的是（ ）



A. 人民政权的巩固

B. 土地改革的进程

C. 一五计划的实现

D. 三大改造的完成

【答案】D

【分析】本题考查三大改造，识记三大改造相关知识。

【解答】A.新中国成立后，巩固政权的措施主要有西藏和平解放、土地改革和抗美援朝，与图示内容不符，排除 A 项。

B.对农业的社会主义改造开始于 1953 年，当时土地改革已经完成，排除 B 项。

C. “一五”计划确定的经济建设指导方针，突出了集中力量发展重工业，建立国家工业化和国防现代化初步基础的核心要点，同时要求相应地发展交通运输业、轻工业、农业和商业，与图示内容不符，排除 C 项。

D.观察图示可知，在农业方面，已加入农业生产合作社的农民比例为 96%；在手工业方面，已完成社会主义改造的手工业者比例为 92%；在资本主义工商业方面，已完成公私合营的工业企业职工人数比例为 99%。结合所学可知，1956 年，我国绝大多数农户参加了农业生产合作社。农业合作化运动，推动了手工业的社会主义改造。1956 年，90% 以上的个体手工业者参加了手工业生产合作社。1956 年初，资本主义工商业的社会主义改造，出现了全行业公私合营的高潮。据此可知，图示反映的是 1956 年，我国三大改造的基本完成，D 项正确。

故选：D。

17.（2 分）1956 年，中国共产党的某次重要会议指出：“党和人民的主要任务是集中力量把我国尽快地从落后的农业国变为先进的工业国。”这次会议是（ ）

A. 中共七大

B. 中共七届二中全会

C. 中共八大

D. 中共八大二次会议

【答案】C

【分析】本题主要考查中共八大的相关史实。重点掌握中共八大的内容及影响的相关史实。

【解答】1956 年，中国共产党在北京召开第八次全国代表大会。根据社会主义基本制度已经在我国建立起来的新形势，大会分析了当时国内的主要矛盾，指出党和人民的主要任务是集中力量把我国尽快地从落后的农业国变为先进的工业国。中共八大以后，中国开始全面的大规模的社会主义建设，C 是正确的选项；ABD 不符合题意。

故选：C。

18.（2 分）如图是 1978 年 12 月邓小平在中共中央工作会议闭幕会上的讲话提纲。这一讲话（ ）

一是解放思想，开动机器
二是发扬民主，加强法制
三是向后看为的是向前看
四是克服官僚主义，人浮于事

- A. 推动伟大历史转折的到来
- B. 标志计划经济体制的结束
- C. 体现南方谈话的主要内容
- D. 提出社会主义初级阶段理论

【答案】A

【分析】本题考查十一届三中全会，掌握相关的基础知识。

【解答】1978 年 12 月 13 日，邓小平在中共中央工作会议闭幕会上作了题为《解放思想，实事求是，团结一致向前看》的重要讲话。这个讲话实际上为即将召开的十一届三中全会提出了基本的指导思想。中共十一届三中全会是新中国成立以来党的历史上具有深远意义的伟大转折，开启了改革开放和社会主义现代化新时期。故 A 正确；这一时期计划经济体制并没有终结，排除 B；南方谈话发表于 1992 年，排除 C；提出社会主义初级阶段理论的是 1987 年召开的中共十三大，排除 D。

故选：A。

19.（2 分）十一届三中全会后，广大农村地区流行一句谚语：“大包干、大包干，交够国家的，留足集体的，剩下都是自己的”。这说明家庭联产承包责任制（ ）

- A. 改变农村土地所有权
- B. 提高农民生产积极性
- C. 促进农村规模化经营
- D. 实现农业集体化生产

【答案】B

【分析】本题主要考查了家庭联产承包责任制的影响，掌握相关基础知识。

【解答】家庭联产承包责任制是在土地公有制的基础上，把土地长期包给各家各户使用，排除 A 项；根据题干“大包干、大包干，交够国家的，留足集体的，剩下都是自己的”和所学知识可知，家庭联产承包责任制是在土地公有制的基础上，把土地长期包给各家各户使用，农业生产基本上变为分户经营、自负盈亏。农民形象地说：“交够国家的，留足集体的，剩下都是自己的。”农民热烈拥护家庭联产承包责任制，生产积极性大大提高，农业连年获得丰收，B 项正确；材料不能反映农村规模化经营，排除 C 项；家庭联产承包责任制的农业生产基本上变为分户经营、自负盈亏，排除 D 项。

故选：B。

- 20.（2 分）下面两幅漫画反映了 20 世纪 60 年代和 21 世纪初人们日常生活发生的变化。据此分析，该变化是由于我国（ ）



- A. 改革开放的不断深入
- B. 第一个五年计划的实施
- C. “大跃进”持续推进
- D. 人民公社化运动的开展

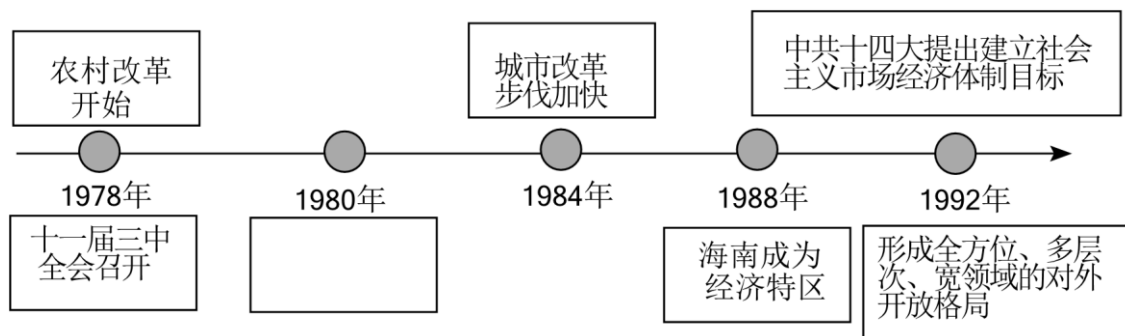
【答案】A

【分析】本题主要考查改革开放后人们日常生活发生的变化原因，识读题干图文是解答本题的关键。

【解答】根据漫画内容并结合所学知识可知，20 世纪 60 年代我国处于社会主义建设初期，物资匮乏，实行计划经济，商品需要凭票购买；20 世纪 90 年代以后，我国改革开放不断深入，我国开始建立社会主义市场经济体制，经济发展迅速，人民生活水平大幅度提高，A 项正确；第一个五年计划的实施是在 1953 年到 1957 年，排除 B 项；“大跃进”运动和人民公社化运动是在 1958 年，排除 CD 项。

故选：A。

- 21.（2 分）下列年代尺的方框中应填写（ ）



- A. 开放十四个沿海城市
B. 建立沿海经济开放区
C. 设立深圳等经济特区
D. 开发开放上海浦东

【答案】C

【分析】本题考查对外开放和经济特区的设立，掌握相关的基础知识。

【解答】观察年代尺可知，方框对应的时间为1980年。结合所学可知，1980年，中央决定在广东、福建两省兴办深圳、珠海、汕头、厦门4个经济特区，故C正确；1984年我国开放了14个沿海城市，1985年我国建立了沿海经济开放区，1990年建立上海浦东开发区，均与题干“方框（1980年）”不符，排除ABD。

故选：C。

22. (2分) 把习近平新时代中国特色社会主义思想确立为中国共产党必须长期坚持的指导思想的是()
- A. 中共十六大
B. 中共十七大
C. 中共十八大
D. 中共十九大

【答案】D

【分析】本题考查中国特色社会主义理论体系。识记相关内容。

【解答】中共十九大上，习近平新时代中国特色社会主义思想被确立为中国共产党必须长期坚持的指导思想，新时代中国特色社会主义思想，是对马克思列宁主义、毛泽东思想、邓小平理论、“三个代表”重要思想、科学发展观的继承和发展，是马克思主义中国化最新成果，是党和人民实践经验和集体智慧的结晶，是中国特色社会主义理论体系的重要组成部分，是全党全国人民为实现中华民族伟大复兴而奋斗的行动指南，必须长期坚持并不断发展。

故选：D。

23. (2分) 2023年2月1日，山东省纪委监委组织省机关党员干部到省廉政教育馆接受纪律教育。这体现了“四个全面”战略布局中的()
- A. 全面建成小康社会
B. 全面从严治党
C. 全面依法治国
D. 全面深化改革

【答案】B

【分析】本题考查“四个全面”战略布局，掌握相关的基础知识。

【解答】“四个全面”战略布局是全面建设社会主义现代化国家、全面深化改革、全面依法治国、全面从严治党。“四个全面”战略布局的提出，更完整地展现出新一届中央领导集体治国理政总体框架，使当前和今后一个时期，党和国家各项工作关键环节、重点领域、主攻方向更加清晰。因此山东省纪委监委组织省机关党员干部到省廉政教育馆接受纪律教育。这体现了“四个全面”战略布局中的“全面从严治党”，故B正确；中国共产党成立100周年，中国已经全面建成了小康社会，排除A；全面依法治国、全面深化改革，在题干内容中都没有涉及，题干内容体现的是“山东省纪委监委组织省机关党员干部到省廉政教育馆接受纪律教育”，排除CD。

故选：B。

24.（2分）历史学习要学会区分史实和史论，史论就是根据史实得出的历史结论。下列属于史论的是（ ）

- A. 民族区域自治制度对维护民族团结具有重大意义
- B. 周恩来在万隆会议上提出了“求同存异”的方针
- C. 袁隆平经多年反复试验成功培育出籼型杂交水稻
- D. 中国于2001年12月成为了世界贸易组织的成员

【答案】A

【分析】本题以史实和史论为切入点，考查学生的分析能力。

【解答】史实是纯对历史事件的表述，而意义是对历史事件的观点，BCD都属于纯表述，而“民族区域自治制度对维护民族团结具有重大意义”属于对历史事件的评论，属于史论。

故选：A。

25.（2分）2022年5月8日，香港特别行政区成功进行第六任行政长官选举。香港社会各界表示，新任行政长官必将更好地贯彻落实“爱国者治港”原则。“爱国者治港”践行了（ ）

- A. 和平共处五项原则
- B. “一国两制”方针
- C. 民族区域自治制度
- D. “求同存异”方针

【答案】B

【分析】本题考查一国两制，掌握相关的基础知识。

【解答】在香港特别行政区第六任行政长官选举中，李家超高票当选第六任行政长官，这次选举践行了“一国两制”方针，也是完善特色民主的又一次重要成功实践。

故选：B。

26.（2分）1992年，“海协会”和“海基会”达成“九二共识”，“九二共识”的核心内容是海峡两岸均坚

持（ ）

- A. 一个中国原则
- B. 和平共处五项原则
- C. 独立自主原则
- D. 互利互补原则

【答案】见试题解答内容

【分析】本题以“九二共识”为切入点，考查海峡两岸的关系。

【解答】根据所学知识，“九二共识”是在 1992 年 11 月解决两岸事务性商谈中，中国大陆的海峡两岸关系协会与中国台湾的海峡交流基金会，在两岸事务性商谈中表述坚持一个中国原则事宜进行协商。经过当年 10 月香港会谈及其后一系列函电往来，达成了各自以口头方式表述“海峡两岸均坚持一个中国原则”的共识，后来被概括为“九二共识”。其核心意涵是大陆和台湾同属一个中国，两岸不是国与国关系，从而明确界定了两岸关系的根本性质，A 项正确，BCD 与题意无关。

故选：A。

27.（2 分）和平共处五项原则已逐步为世界大多数国家所接受，不仅在各国大量的双边条约中得到体现，而且被许多国家条约和国际文献所确认。这是因为和平共处五项原则（ ）

- A. 加强社会主义阵营力量
- B. 消除世界各国间的矛盾冲突
- C. 维护发展中国家的利益
- D. 符合和平与发展的时代主题

【答案】D

【分析】本题主要考查了和平共处五项原则的提出以及影响等知识，注意题干材料的识读。

【解答】题干内容体现的是“和平共处五项原则已逐步为世界大多数国家所接受，不仅在各国大量的双边条约中得到体现，而且被许多国家条约和国际文献所确认”，该原则可以适用于不同的社会制度之间，社会主义阵营力量，在题干内容中无法体现，排除 A 项；

和平共处五项原则不可能消除世界各国间的矛盾冲突，不符合史实，排除 B 项；

维护发展中国家的利益，与题干内容不符，题干内容体现的是“和平共处五项原则已逐步为世界大多数国家所接受，不仅在各国大量的双边条约中得到体现，而且被许多国家条约和国际文献所确认”，排除 C 项；

根据题干信息“和平共处五项原则已逐步为世界大多数国家所接受，不仅在各国大量的双边条约中得到体现，而且被许多国家条约和国际文献所确认”可知，和平共处五项原则为不同社会制度的国家所认可，而且被许多国家条约和国际文献所确认，结合所学知识可知，这是因为和平共处五项原则符合和平与发展的时代主题，D 项正确。

故选：D。

28.（2分）新中国70年代外交关系的三次突破：艰难复常，扬眉吐气；跨洋握手，冰释前嫌；相逢一笑，邻里往来。其中第一次突破带来的影响是（ ）

- A. 实现了中国入世的愿望
- B. 加速了改革开放的进程
- C. 提高了中国的国际地位
- D. 建立了人类命运共同体

【答案】C

【分析】本题考查中美建交，识记中美建交相关知识。

【解答】A.2001年我国加入世贸组织实现了中国入世的愿望，排除A项。

B.中国的改革开放开始于1978年十一届三中全会的召开，与题干信息“外交关系”不符，排除B项。

C.根据所学知识，“艰难复常，扬眉吐气”指的是1971年10月恢复联合国合法席位的事件，是世界上一切爱好和平和主持正义的国家共同努力的结果，提高了中国的国际地位，C项正确。

D.构建人类命运共同体”是习近平总书记于2015年9月在纽约联合国总部出席第七十届联合国大会一般性辩论时发表重要讲话中提出的治国理政方针理论，排除D项。

故选：C。

29.（2分）1964年10月16日，在我国西部戈壁，伴随着一声霹雳巨响，巨大的蘑菇云腾空而起，向世人昭示了我国（ ）

- A. 载人航天技术的进步
- B. 国防实力的增强
- C. 卫生医疗事业的发展
- D. 粮食问题的解决

【答案】B

【分析】本题考查两弹一星，掌握相关的基础知识。

【解答】1964年10月16日，我国第一颗原子弹爆炸成功，增强了我国的国防力量，打破了帝国主义的核垄断，对维护世界和平具有重要意义，故B正确；2003年，我国第一艘载人飞船“神舟5号”往返成功，排除A；题干描述的是我国第一颗原子弹爆炸成功，没有涉及卫生医疗和粮食问题，排除CD。

故选：B。

30.（2分）为了掌握时间，不同时代的人们选择不同的方式。“五十年代看阳光，七十年代看墙上（钟表），八十年代看手上（手表），九十年代看腰上（手机）”。这反映出（ ）

- A. 通讯手段的进步
- B. 时间观念的增强
- C. 生活方式的变化
- D. 民众素质的提高

【答案】C

【分析】本题考查改革开放后社会生活的变化，掌握相关的基础知识。


【解答】从 50 年代到 90 年代，人们掌握时间的手段发生变化，从看阳光——看钟表——看手表——看手机。结合所学可知，生活方式是指个人及其家庭的日常生活的活动方式，包括衣、食、住、行以及闲暇时间的利用等。材料反映出人们生活方式的变化。故 C 正确；材料没有涉及通讯手段的变化，排除 A；材料反映出人们掌握时间的手段的变化，无法反映时间观念和民众素质的变化，排除 BD。

故选：C。

二、非选择题（本部分 3 小题，共 40 分。第 31 题 13 分，第 32 题 13 分，第 33 题 14 分）

31.（13 分）新中国的工业化建设

材料一：



材料二：将重工业作为经济建设的重点，一方面是学习苏联的结果，另一方面，以重工业为重点又是从中国的实际出发。同时，中国共产党吸取了苏联在发展重工业时忽视农业和轻工业的教训，在确定优先发展重工业作为社会主义工业化的中心环节的同时，规定了要使工业和农业、重工业和轻工业的发展之间保持一个适当的比例，从而使国民经济能够有计划、按比例地协调发展。

——摘编自赵凌云等《为了人民的利益（中国共产党经济工作 100 年）》

请回答：

（1）据材料一，将照片所反映的历史事件写在横线上。从中任选一历史事件，仿照示例，说明其与中国工业化的关系。

【示例】图④：第一届全国人大的召开，通过了《中华人民共和国宪法》，确立了人民代表大会制度，这为新中国的工业化提供了制度和法律的保障。

（2）据材料二，概括新中国工业化建设的特点。结合所学知识，说明它如何体现我党“一切从实际出发”的思想。

【答案】（1）事件：①土地改革；②第一个五年计划；③抗美援朝。关系：土地改革大大解放了农村生

产力，农业生产获得迅速恢复和发展，为国家的工业化建设准备了条件。一五优先发展重工业，奠定了国家工业化基础，是社会主义工业化的起步。抗美援朝战争的胜利粉碎了以美国为首的帝国主义国家的侵略阴谋，为我国社会主义工业化和社会主义改造创造了良好的周边环境。

（2）特点：以重工业为重点；重工业、轻工业和农业按比例平衡发展。说明：在一五计划的编制过程中，我们党吸取了苏联在发展重工业时忽视农业和轻工业的教训，确定一五计划的基本任务是：集中力量发展重工业，建立国家工业化和国防现代化的初步基础；相应地发展交通运输业、轻工业、农业和商业；相应地培养建设人才。一五计划的实施过程中，十分注意统筹兼顾，全面安排，实现各部门之间的综合平衡。“一五”计划将国家全部基本建设投资的 58.2%用于工业基本建设，其中 88.8%用于制造生产资料的重工业建设。轻、重工业的投资比例为 1：7.3。我国重工业相对轻工业来说基础过于薄弱，尽管轻工业的利润高、投资回收快，但是它的发展却受到原料和能源不足的制约，如果把公私企业和手工业加在一起，其生产能力是过剩的。所以加大对重工业投资比例的安排是合理的。当然，优先发展重工业并不是孤立地发展重工业。“一五”计划十分注意统筹兼顾，全面安排，实现各部门之间的综合平衡。在基本建设投资总额中，对农林水利、交通运输邮电、银行贸易、文化教育等部门都安排了适当比例的投资，同时十分注意市场的稳定，强调财政、信贷、外汇、物资的“四大平衡”，使国民经济能够有计划按比例地协调发展。

【分析】 本题考查土地改革的相关内容，一五计划的相关内容，抗美援朝战争的相关内容，新中国工业化建设的特点，准确解读材料信息。

【解答】（1）事件：①根据图片“政府发给农民的房屋执照”并结合所学知识可知，通过土地改革，近三亿无地少地的农民分到了七亿亩土地和大量的农具、牲畜和房屋等。因此，①处填写“土地改革”；②根据图片“毛泽东为长春第一汽车制造厂题词”并结合所学知识可知，一五计划期间，中国第一个生产载重汽车的工厂——长春第一汽车制造厂生产出第一辆汽车。因此，②处填写“第一个五年计划”；③根据图片“板门店签署停战协定”并结合所学知识可知，1953年7月27日，朝鲜停战协定在板门店正式签字，历时三年多的抗美援朝战争宣告结束。因此，③处填写“抗美援朝”。关系：仿照示例，结合所学，简答相关事件的意义，阐述其与工业化的关系。如，土地改革大大解放了农村生产力，农业生产获得迅速恢复和发展，为国家的工业化建设准备了条件；一五优先发展重工业，奠定了国家工业化基础，是社会主义工业化的起步；抗美援朝战争的胜利粉碎了以美国为首的帝国主义国家的侵略阴谋，为我国社会主义工业化和社会主义改造创造了良好的周边环境。

（2）特点：根据材料二“以重工业为重点又是从中国的实际出发。同时，中国共产党吸取了苏联在发展重工业时忽视农业和轻工业的教训，在确定优先发展重工业作为社会主义工业化的中心环节的同时，规定了要使工业和农业、重工业和轻工业的发展之间保持一个适当的比例，从而使国民经济能够有计划、

按比例地协调发展”可以得出，材料二指出中国工业化建设的特点是以重工业为重点；重工业、轻工业和农业按比例平衡发展。说明：根据所学可知，“一五”计划在编制和实施过程中，由于坚持了实事求是的原则，谨慎从事，反复论证，较好地解决了关于优先发展重工业和相应地发展农业、轻工业等问题。因此，可从一五计划的编制和实施来说明我党“一切从实际出发”的思想。在一五计划的编制过程中，我们党吸取了苏联在发展重工业时忽视农业和轻工业的教训，确定一五计划的基本任务是：集中力量发展重工业，建立国家工业化和国防现代化的初步基础；相应地发展交通运输业、轻工业、农业和商业；相应地培养建设人才。一五计划的实施过程中，十分注意统筹兼顾，全面安排，实现各部门之间的综合平衡。“一五”计划将国家全部基本建设投资的 58.2%用于工业基本建设，其中 88.8%用于制造生产资料的重工业建设。轻、重工业的投资比例为 1：7.3。我国重工业相对轻工业来说基础过于薄弱，尽管轻工业的利润高、投资回收快，但是它的发展却受到原料和能源不足的制约，如果把公私企业和手工业加在一起，其生产能力是过剩的。所以加大对重工业投资比例的安排是合理的。当然，优先发展重工业并不是孤立地发展重工业。“一五”计划十分注意统筹兼顾，全面安排，实现各部门之间的综合平衡。在基本建设投资总额中，对农林水利、交通运输邮电、银行贸易、文化教育等部门都安排了适当比例的投资，同时十分注意市场的稳定，强调财政、信贷、外汇、物资的“四大平衡”，使国民经济能够有计划按比例地协调发展。

故答案为：

（1）事件：①土地改革；②第一个五年计划；③抗美援朝。关系：土地改革大大解放了农村生产力，农业生产获得迅速恢复和发展，为国家的工业化建设准备了条件。一五优先发展重工业，奠定了国家工业化基础，是社会主义工业化的起步。抗美援朝战争的胜利粉碎了以美国为首的帝国主义国家的侵略阴谋，为我国社会主义工业化和社会主义改造创造了良好的周边环境。

（2）特点：以重工业为重点；重工业、轻工业和农业按比例平衡发展。说明：在一五计划的编制过程中，我们党吸取了苏联在发展重工业时忽视农业和轻工业的教训，确定一五计划的基本任务是：集中力量发展重工业，建立国家工业化和国防现代化的初步基础；相应地发展交通运输业、轻工业、农业和商业；相应地培养建设人才。一五计划的实施过程中，十分注意统筹兼顾，全面安排，实现各部门之间的综合平衡。“一五”计划将国家全部基本建设投资的 58.2%用于工业基本建设，其中 88.8%用于制造生产资料的重工业建设。轻、重工业的投资比例为 1：7.3。我国重工业相对轻工业来说基础过于薄弱，尽管轻工业的利润高、投资回收快，但是它的发展却受到原料和能源不足的制约，如果把公私企业和手工业加在一起，其生产能力是过剩的。所以加大对重工业投资比例的安排是合理的。当然，优先发展重工业并不是孤立地发展重工业。“一五”计划十分注意统筹兼顾，全面安排，实现各部门之间的综合平衡。在基本建设投资总额中，对农林水利、交通运输邮电、银行贸易、文化教育等部门都安排了适当比例的

投资，同时十分注意市场的稳定，强调财政、信贷、外汇、物资的“四大平衡”，使国民经济能够有计划按比例地协调发展。

32.（13 分）国有企业改革

徐州绿健乳业公司发展大事年表	
1956 年	在泰康牛乳场（1934 年创立）的基础上成立地方国营徐州市乳牛场，正式形成规模业体制。
1980 年	成立徐州市乳品公司，隶属徐州市农水局，主要产品为消毒牛奶、奶粉、麦乳精等
1995 年	由于管理落后，设备陈旧，年亏损 328 万元。年底，从市场、产品、管理到用干部用工及收入分配进行大胆改革。
1996 年	公司实施“固体向液体转移”产品战略，主要生产销售液体奶，当年担亏 204 万元
1997 年	企业一举扭亏为盈，驶入企业有利润、职工收入增长、效益逐年上升的良性发展轨道
2000 年	作为徐州市第一批改制国有企业，改制为徐州绿健乳业有限责任公司，成为独立经营、自负盈亏的法人实体。
2003 年	开创“公司+政府+奶农”的奶源基地建设模式，以“订单农业”、股份制、合作形式，向基地、奶农提供各种帮助。
2005 年	绿健乳业发展成为牧工商、经贸一体化、产加销一条龙的省、市重点龙头企业。

——摘编自《徐州市市志》

请回答：

- （1）据材料并结合所学知识，将徐州绿健乳业公司的发展历程划分为三个阶段，并说明划分理由。
- （2）据材料并结合所学知识，说明国家的经济政策是怎样影响绿健乳业公司发展的？

【答案】（1）三个阶段：三大改造时期（国家对资本主义工商业进行了社会主义改造）；国有企业改革时期；开创基地建设新模式等三个阶段。理由：三大改造时期，国家对资本主义工商业进行了社会主义改造，实行赎买政策，实现了和平过渡，是中国社会主义改造的创举；改革开放时期：城市经济体制改革的中心环节是增强企业活力，通过改革，企业有了经营自主权；实行经营承包责任制，企业的经济利益、职工的经济收入与企业经营成果相联系，企业经营好，职工收入就多，克服了长期以来吃“大锅饭”的弊病。这就大大调动了企业、职工的积极性，增强了企业的活力。确立社会主义市场经济体制：开创基地建设新模式，为徐州绿健乳业公司提供稳定的优质奶源，同时有效的降低了奶农和企业的风险，解决了集团高速发展的后顾之忧。

（2）影响：国家陆续出台了多项政策，鼓励乳制品行业发展和创新，通过以城市为重点的经济体制改革，增强企业活力，政府引导，确立社会主义市场经济体制，开创“公司+政府+奶农”的奶源基地建设新模式，为徐州绿健乳业公司提供稳定的优质奶源，同时有效的降低了奶农和企业的风险，解决了集团高速发展的后顾之忧。

【分析】 本题考查国有企业改革的相关内容，准确解读材料信息，掌握基础知识。

【解答】（1）根据材料“1956年在泰康牛乳场（1934年创立）的基础上成立地方国营徐州市乳牛场，正式形成规模业体制”，可知与1956年底完成的资本主义工商业的社会主义改造相关；由“1996年公司实施‘国体向液体转移’产品战略，主要生产销售液体奶，当年扭亏204万元”，可知与改革开放时期，国有企业改革相关；由“2003年开创‘公司+政府+奶农’的奶源基地建设模式，以‘订单农业’、股份制、合作形式，向基地、奶农提供各种帮助”，可知与开创基地建设新模式相关。因此徐州绿健乳业公司的发展历程划分为三大改造时期；国有企业改革时期；开创基地建设新模式等三个阶段。划分理由是三大改造时期，国家对资本主义工商业进行了社会主义改造，实行赎买政策，实现了和平过渡，是中国社会主义改造的创举；城市经济体制改革的中心环节是增强企业活力，通过改革，企业有了经营自主权；实行经营承包责任制，企业的经济利益、职工的经济收入与企业经营成果相联系，企业经营好，职工收入就多，克服了长期以来吃“大锅饭”的弊病。这就大大调动了企业、职工的积极性，增强了企业的活力。确立社会主义市场经济体制，开创基地建设新模式为徐州绿健乳业公司提供稳定的优质奶源，同时有效的降低了奶农和企业的风险，解决了集团高速发展的后顾之忧。

（2）结合所学知识可知，国家陆续出台了多项政策，鼓励乳制品行业发展和创新，通过以城市为重点的经济体制改革，增强企业活力，政府引导，确立社会主义市场经济体制，开创“公司+政府+奶农”的奶源基地建设新模式，为徐州绿健乳业公司提供稳定的优质奶源，同时有效的降低了奶农和企业的风险，解决了集团高速发展的后顾之忧。

故答案为：

（1）三个阶段：三大改造时期（国家对资本主义工商业进行了社会主义改造）；国有企业改革时期；开创基地建设新模式等三个阶段。理由：三大改造时期，国家对资本主义工商业进行了社会主义改造，实行赎买政策，实现了和平过渡，是中国社会主义改造的创举；改革开放时期：城市经济体制改革的中心环节是增强企业活力，通过改革，企业有了经营自主权；实行经营承包责任制，企业的经济利益、职工的经济收入与企业经营成果相联系，企业经营好，职工收入就多，克服了长期以来吃“大锅饭”的弊病。这就大大调动了企业、职工的积极性，增强了企业的活力。确立社会主义市场经济体制：开创基地建设新模式，为徐州绿健乳业公司提供稳定的优质奶源，同时有效的降低了奶农和企业的风险，解决了集团高速发展的后顾之忧。

（2）影响：国家陆续出台了多项政策，鼓励乳制品行业发展与创新，通过以城市为重点的经济体制改革，增强企业活力，政府引导，确立社会主义市场经济体制，开创“公司+政府+奶农”的奶源基地建设新模式，为徐州绿健乳业公司提供稳定的优质奶源，同时有效的降低了奶农和企业的风险，解决了集团高速发展的后顾之忧。

33.（14 分）新中国外交

材料一 20 世纪 50 年代恢复中华人民共和国在联合国的席位问题一直受到美国的阻挠。随着新中国外交的开展和联合国会员国的增加，赞成恢复中华人民共和国合法席位的票数逐年增加。1971 年第二十六届联大以 76 票赞成，35 票反对，17 票弃权的压倒性多数通过“2758”号决议，恢复了中华人民共和国在联合国的一切权利，驱逐台湾代表出联合国。新中国 22 年的斗争取得了最后的胜利。

——摘编自金朝晖《周恩来与中国在联合国合法席位的恢复》

材料二 新中国成立二十多年来，中国的国际地位不断提高，在国际事务中的作用重大。美国总统尼克松在一份对外报告中说：“如果没有（中国）这个拥有七亿多人民的国家出力量，要建立稳定和持久的国际秩序是不可设想的。”美国孤立中国政策的失败，以及美国与苏联争霸的需要，都使美国不得不考虑改善与中国的关系。中国也面临新的战略抉择。那时候，苏联陈兵中国北方边境，构成对中国安全的主要威胁。在这种形势下，改善中美关系，对改善中国的国际地位，对付来自苏联的威胁十分有利；同时，对解决台湾问题，实现祖国统一大业，也有重要作用。

——人民教育出版社《历史必修 1》

请回答：

- （1）据材料一并结合所学知识，说明中华人民共和国在联合国的合法席位得以恢复的原因。
- （2）据材料二，归纳中美关系得以改善的原因。
- （3）综合以上材料，指出影响国与国之间外交关系的因素。

【答案】（1）①新中国成立后，中国的经济、文化、教育、科技、国防等各个方面均取得了很大的成就，

综合国力不断增强。②中国政府长期奉行独立自主的和平外交政策，积极发展同世界各国的和平友好关系。新兴的亚非拉独立国家逐渐团结起来，积极支持中国恢复在联合国的合法席位。③从当时的国际关系格局来看，一方面美苏矛盾趋于表面化、尖锐化，冷战愈演愈烈；另一方面，世界上各种政治力量也出现了新的分化与组合。

（2）中国国际地位的提高；美国与苏联争霸的需要；中国对解除苏联威胁和完成祖国统一的需要。

（3）国家利益。

【分析】 本题主要考查新中国外交成就。需要考生掌握中华人民共和国在联合国的合法席位得以恢复的原因、20 世纪 70 年代中美关系得以改善的原因、影响国与国之间外交关系的因素，掌握相关基础知识。

【解答】（1）根据材料一“随着新中国外交的开展和联合国会员国的增加，赞成恢复中华人民共和国合法席位的票数逐年增加”可以得出，中国政府长期奉行独立自主的和平外交政策，积极发展同世界各国的和平友好关系。新兴的亚非拉独立国家逐渐团结起来，积极支持中国恢复在联合国的合法席位。结合所学可知，还可从中国综合国力的增强、国际关系格局的变化来分析中国恢复在联合国合法席位的原因，具体阐述如下：新中国成立后，中国的经济、文化、教育、科技、国防等各个方面均取得了很大的成就，综合国力不断增强。从当时的国际关系格局来看，一方面美苏矛盾趋于表面化、尖锐化，冷战愈演愈烈；另一方面，世界上各种政治力量也出现了新的分化与组合。

（2）根据材料二“新中国成立二十多年来，中国的国际地位不断提高，在国际事务中的作用重大”可以得出，中国国际地位的提高；根据材料二“美国孤立中国政策的失败，以及美国与苏联争霸的需要，都使美国不得不考虑改善与中国的关系”可以得出，美国与苏联争霸的需要；根据材料二“那时候，苏联陈兵中国北方边境，构成对中国安全的主要威胁。在这种形势下，改善中美关系，对改善中国的国际地位，对付来自苏联的威胁十分有利；同时，对解决台湾问题，实现祖国统一大业，也有重要作用”可以得出，中国对解除苏联威胁和完成祖国统一的需要。

（3）综合上述材料并结合所学知识可知，国家利益是国家生存和发展的权益，维护国家利益是主权国家对外活动的出发点和落脚点。如，新中国的成立宣告美国“扶蒋反共”政策的彻底失败。由于中美两国的国家战略的对立和社会制度的巨大差异，美国政府敌视新中国，对新中国实行封锁禁运、包围威胁的政策。双方敌对的状态长达二十多年。20 世纪 70 年代，美国为了其全球战略的利益，主张逐步结束中美对抗的局面，着手调整对华政策。因此，影响国与国之间外交关系的因素是国家利益。

故答案为：

（1）①新中国成立后，中国的经济、文化、教育、科技、国防等各个方面均取得了很大的成就，综合国力不断增强。②中国政府长期奉行独立自主的和平外交政策，积极发展同世界各国的和平友好关系。新兴的亚非拉独立国家逐渐团结起来，积极支持中国恢复在联合国的合法席位。③从当时的国际关系格

局来看，一方面美苏矛盾趋于表面化、尖锐化，冷战愈演愈烈；另一方面，世界上各种政治力量也出现了新的分化与组合。

（2）中国国际地位的提高；美国与苏联争霸的需要；中国对解除苏联威胁和完成祖国统一的需要。

（3）国家利益。